

سنڌي

هدايت: استاد / نگراني ڪندڙ کي گذارش ٿي ڪجي ته ڏنل سڀني سوالن کي چڱي طرح پڙهي ٻڌائي ۽ ٻارن جي رهنمائي ڪري ته جيئن ٻار سوالن کي سمجهي سگهن.

مارڪون 04

ٽاسڪ 1

هيٺ ڏنل تصوير کي ڏسو ۽ صحيح جواب لکو.



1. مٿي ڏنل تصوير ۾ موجود بدڪ جي ٻچن جو تعداد لکو.

2. تلاءَ جي مٿان ڇا اڏامي رهي آهي؟

3. بدڪ ٻچن سميت تلاءَ ۾ ڇا ڪري رهي آهي؟

4. پاڻي ۾ ڪنول جا ڪيترا پن / گل تري رهيا آهن؟

مارڪون 03

ٽاسڪ 2

هيٺ ڏنل جملن ۾ هڪ لفظ بي ترتيب آهي، انهن بي ترتيب ڪرڻ کي ترتيب ڏئي لفظ ٺاهيو ۽ جملو پورو ڪيو.

1. مون کي ر س ب ت ا جي مند/موسم وٺندي آهي.

2. ڏکڻي وقت ۾ هڪ ٻئي جي د م د ڪجي.

3. علم وڌي ل د و ت آهي.

مارڪون 03

ٽاسڪ 3

هيٺ ڏنل تصوير کي غور سان ڏسو ۽ صحيح جوابن تي گولڙو O ڀايو.



1. ڏيڏرينَ _____ ويٺا آهن.

(الف) ڀر (ب) تي (ج) مٿان (د) ڀرسان

2. پنيوري پاڻيءَ جي _____ اڏامي رهي آهي.

(الف) مٿان (ب) تي (ج) ڀر (د) ڀرسان

3. تلاءَ جي _____ وڏو وڻ آهي.

(الف) مٿان (ب) تي (ج) ڀر (د) ڀرسان

مارڪون 03

ٽاسڪ 4

سڄي/ساڄي پاسي وارين تصويرن کي غور سان ڏسو ۽ ڪٿي/ڪاٺي پاسي وارين تصويرن ۾ موجود انهن جي ضد/ابتر تصويرن سان ليڪ (—) وسيلي ملايو.



نرم



جاڳيل



رات



غريب



مثال

ڏينهن



امير



سخت



سمهيل

مارڪون 03

ٽاسڪ 5

اسم اھولفظ آھي جو نالو ھجي ڪنھن بہ ماڻھوءَ، ساھواري، شيءِ ۽ جاءِ جو.

مثال:

1. ماڻھو _____ احمد _____
2. جاءِ _____ اسپتال _____
3. شيءِ _____ ڪتاب _____

مثال کي ڏسندي ھڪ ماڻھوءَ، جاءِ ۽ شيءِ جو نالو لکڻ.

(مثال ۾ ڏنل نالا لکڻ کان پرھيز ڪريو)

1. ماڻھو _____
2. جاءِ _____
3. شيءِ _____

مارڪون 02

ٽاسڪ 6

ھيٺ ڏنل جملن کي ناڪاري جملن ۾ تبديل ڪريو.

مثال: ڇا احمد اچي ٿو؟

احمد نہ ٿو اچي.

1. ڇا اسما کيڏي ٿي؟

2. چا علي لکي تو؟

مارکون 02

تاسک 7

هيٺ ڏنل لفظن جا مؤنث لکو.

مؤنث	لفظ
گابي	گابو
	پلو
	چيلو

مثال:


English

Instruction: Teacher/Invigilator is requested to readout all questions to the students clearly.


Task 8

2 Marks

Write the names of the given animals.



i) _____



ii) _____

Task 9

1 Mark

Look at the given picture and complete its name by using the correct sound.

_____ one

- A. ch
- B. ph
- C. sh



Task 10**4 Marks**

Read the given comprehension passage and answer the following question.

My name is Rizwan. I study in Grade 3. I like to go school. I wake up early in the morning and eat a healthy breakfast that keeps me fresh all day.



Then I prepare for school, put my bag on the shoulder and reach school through bus. I like to study at school.

Number the illustration according to their sequence in the story.



Task 11**2 Marks**

Look at the given pictures carefully and circle **O** the option that best describe the pictures.

	<p>A. The ball is oval. B. The ball is round. C. The ball is square.</p>
	<p>A. Limes taste salty. B. Limes taste sweet. C. Limes taste sour.</p>

Task 12**3 Marks**

Write the correct preposition from the given options.

i) Jam is _____ the bottle.

- A. under
- B. on
- C. in
- D. at



ii) The cat is _____ the table.

- A. in
- B. on
- C. above
- D. under



iii) The man is sitting _____ the chair.

- A. in
- B. on
- C. above
- D. under

**Task 13****2 Marks**

Rewrite the following sentences by adding possessive pronoun.

Example: I saw the dog that belongs to you.

I saw your dog.

i) I am driving a car that belongs to you.

Ans. _____

ii) The pair of shoes that belongs to your sister is beautiful.

Ans. _____

Task 14**1 Mark**

Circle **O** the sentence where punctuation is **NOT** used correctly.

- A. Baa baa black sheep?
- B. Early to bed and early to rise.
- C. Rain, rain, go away, come again some other day.
- D. I am a little tea pot.

Task 15**1 Mark**

Look at the given vehicle and write **one** sentence about it.



Ans. _____




Task 16**2 Marks**

With the help of a line (—), match the words that end with the same sound.

glass	class
	floppy
book	hot
	cook

Task 17**1 Mark**

Shade the object that you can wear.



Task 18**2 Marks**

It's your friend's birthday. Choose **any two** appropriate greetings from the given box and write them.

Happy Birthday

Happy Eid day

May you live long

Happy new year



Task 19**2 Marks**

Look at the given picture and write **two** sentences about it.



Ans. _____

Task 20**1 Mark**

Circle **O** the correct picture that is relevant with the given sentence.



Her hair is long.

Task 21**2 Marks**

Write the missing letters.



i) q___een.



ii) k___ys.

Task 22**1 Mark**

Read the given description. Think and write the name of the building.

It has many rooms.

Some rooms are for doctors and some rooms are for patients.

In patients' rooms, there are many beds, chairs, medicines and medical instrument.

It has one medical store.

Ans. _____

Task 23

3 Marks


Write the correct action verbs.



Ans. _____



Ans. _____



Ans. _____

Mathematics

Instruction: Teacher/Invigilator is requested to readout all questions to the students clearly.

هدايت: استاد / نگراني ڪندڙ کي گذارش ٿي ڪجي ته ڏنل سڀني سوالن کي چڱي طرح پڙهي
ٻڌائي ۽ ٻارن جي رهنمائي ڪري ته جيئن ٻار سوالن کي سمجهي سگهن.
هدايت: استاد / نگران تمام سوالات کي اچي طرح سے پڙھين اور بچوں کي رهنمائي ڪريں۔

Task 24

7 Marks

Circle O the correct answers.

صحيح جوابن تي گولڙو O ڀايو.
صحیح جوابات پر دائرہ O لڳائين۔

i) Solve.

حل ڪريو.
حل ڪريں۔

$$\frac{3}{5} + \frac{1}{5} =$$

A. $\frac{2}{5}$

B. $\frac{4}{5}$

C. $\frac{4}{10}$

D. $\frac{5}{10}$

ii) How many centimetres are altogether in the given figure?

ھیٹ ڈنل عدد کل ملائی کیترا سینٹی میٹر تیندا؟

دئے گئے اعداد کل ملا کر کتنے سینٹی میٹر ہیں؟

$$7\text{m and }18\text{cm} =$$

- A. 7018cm
- B. 187cm
- C. 718cm
- D. 781cm

iii) 5 girls shared 225 nail polishes equally. How many nail polishes did each girl get?

5 چوکریں 225 نئین رنگٹیون/ناخن پالش پاڈ ہر ہک جیتریون ورہایون۔ ہڈایوتہ ہر ہک چوکری کی

کیتریون نئین رنگٹیون/ناخن پالش ملیون؟

5 لڑکیوں نے 225 ناخن پالش آپس میں برابر بانٹی۔ ہر لڑکی کو کتنی ناخن پالش ملیں؟

- A. 42
- B. 43
- C. 44
- D. 45

iv) A car has 4 wheels. How many wheels do 5 cars have?

ہک گاڈی ہر 4 قیتا آہن تہ 5 گاڈین ہر کل کیترا قیتا تیندا؟

ایک گاڑی میں 4 پہیے ہیں۔ 5 گاڑیوں میں کتنے پہیے ہوں گے؟

- A. 10
- B. 20
- C. 30
- D. 40



v) There are 7 days in a week. How many days are there in 6 weeks?

هڪ هفتي ۾ 7 ڏينهن هوندا آهن. 6 هفتن ۾ ڪل ڪيترا ڏينهن ٿيندا؟
هفتي ۾ 7 دن هوتو هيں۔ 6 هفتو ۾ ڪتنه دن هون گه؟

- A. 42
- B. 44
- C. 46
- D. 48

vi) The volume of a bottle of milk is 9000 millilitres. Convert the volume of milk in liters.

ڪير جي بوتل جو مقدار 9000 ملي ليٽر آهي. ڪير جي انهيءَ مقدار کي ليٽر ۾ تبديل ڪريو.
دودھ کي بوتل ڪا حجم 9000 ملي ليٽر هه۔ دودھ ڪه اس حجم کوليٽر ۾ تبديل ڪريں۔

- A. 9 liters
- B. 19 liters
- C. 90 liters
- D. 900 liters

vii) How much money will you need altogether to buy a cricket bat of Rs. 650 and a ball of Rs. 250?

هڪ بيٽ جي قيمت 650 روپيا ۽ بال جي قيمت 250 روپيا آهي. ان کي خريد ڪرڻ جي لاءِ توهان کي
ڪل ڪيترا روپيا گهريل آهن؟
ايڪ بلهه کي قيمت 650 روپه اور بال کي قيمت 250 روپه هه۔ ان کو خريد نه ڪه لئه آپ کو ڪل ڪتنه روپه درڪار
هون گه؟

- A. 700
- B. 750
- C. 900
- D. 950

Task 25**2 Marks**

Ali bought a Mathematics book for Rupees 303 and an English book for Rupees 223. How many rupees did he spend altogether? Show steps.

علي رياضي جوھڪ ڪتاب 303 روپين ۾ ۽ انگريزي جوھڪ ڪتاب 223 روپين خريد ڪيو. ٻڌايو ته سڀ ملائي ان کيترا روپيا خرچ ڪيا؟ مرحليوار لکو.

علي نے حساب کی ایک کتاب 303 روپے میں اور انگريزي کی ایک کتاب 223 روپے میں خريدي۔ بتائے کل ملا کر اُس نے کتنے روپے خرچ ڪئے؟ مراحل لکھیں۔

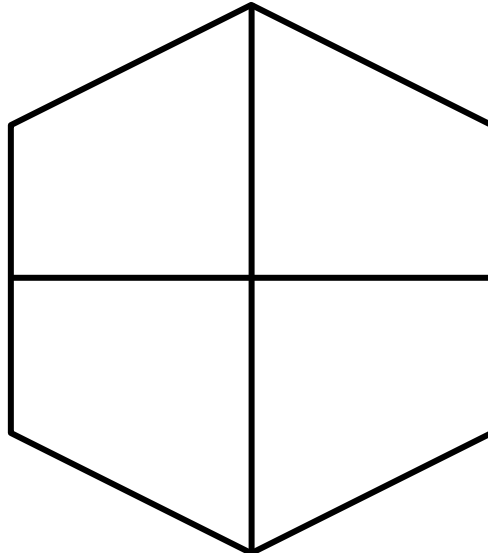
Ans. _____

Task 26**1 Mark**

Shade the parts of the mentioned shape to show the given fraction.

هيٺ ڏنل شڪل جي حصن ۾ موجود اڻڀور جي سڃاڻپ ڪرڻ لاءِ پينسل سان رنگ ڪريو. دي گئي شڪل ڪے حصوں میں ذیل میں موجود کسور کی نشاندہی ڪے لئے پنسل سے رنگ بھريں۔

$$\frac{2}{4}$$



Task 27**1 Mark**

What number am I?

I am more than 10 and less than 20.

You can find me in the table of 5.

مان ڪهڙو نمبر آهيان؟

مان 10 کان وڌيڪ ۽ 20 کان گهٽ آهيان.

توهان مون کي 5 جي ڪوڙي ۾ ڳولي سگهو ٿا.

میں کون سا نمبر ہوں؟

میں 10 سے زیادہ اور 20 سے کم ہوں۔

آپ مجھے 5 کے پہاڙے میں ڏھونڊ سگهڻ ٿا۔

Ans. _____

Task 28**2 Marks**

Write the given words in numbers.

هيٺ ڏنل لفظن کي عددن ۾ لکو.

دئے گئے الفاظ کو اعداد میں لکھیں۔

i) Four hundred and fifty _____

ii) Eight hundred and thirteen _____

Task 29**2 Marks**

Ahmed packed 150 apples equally in a box that has capacity of 5 apples. To pack all apples, how many boxes did he need? Show steps.

احمد 150 صوف دڀن ۾ اهڙي طرح رکيا جو هڪ دڀي ۾ 5 صوف آيا. ٻڌايو ته سڀني صوفن کي رکڻ لاءِ
ڪيترا دڀا ڪم آندا؟ مرحليوار لکو.

احمد نے 150 سبب ڏڀون ۾ اس طرح رکھے کہ ايڪ ڏڀي ۾ 5 سبب آئے۔ بتايو سارے سببوں کي رکھڻ کي لئو کتنو
ڏڀي درڪار تھي؟ مرحل دکھائين۔

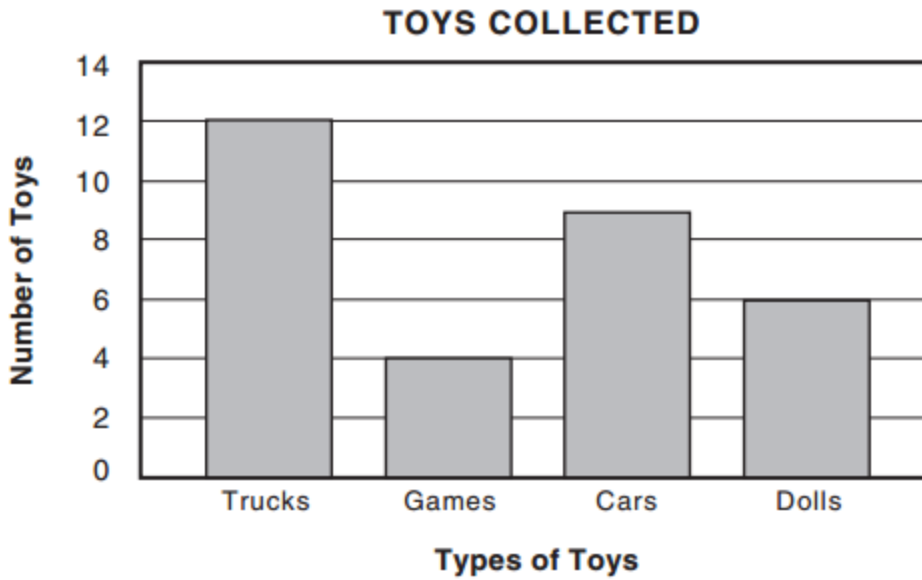
Ans _____

Task 30**3 Marks**

The following bar graph shows the toy's collection of Farheen. Use the data to answer the following questions.

هيٺ ڏنل بار گراف فرحين وٽ موجود رانديڪن جي تعداد کي ظاهر ڪري رهيو آهي. انگ اکرن جي مدد سان پڇيل سوالن جا جواب ڏيو.

ذيل ۾ ڏيکيا ويا بار گراف فرحين کي پاس موجود ڪلهونو کي تعداد ظاهر ڪر رهيو آهي. اعداد و شمار کي مدد سان پوڇيل سوالن کي جواب لکي.



i) How many dolls does Farheen have?

فرحين وٽ ڪيتريون گڏيون آهن؟
فرحين کي پاس ڪتنه گڙيا آهن؟

Ans. _____

ii) How many trucks does she have?

ان وٽ ڪيتريون ٽرڪون آهن؟
اس کي پاس ڪتنه ٽرڪ آهن؟

Ans. _____

iii) How many toys does she have altogether?

ان وت گل ملائي کيتراراندیکا آهن؟
اُس کے پاس گل ملا کر کتنے کھلونے ہیں؟

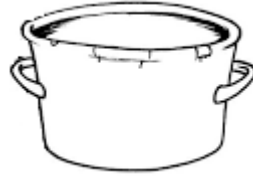

Ans. _____

Task 31

1 Mark

Look at the given pictures and shade the object that has more capacity.

هيٺ ڏنل شين کي ڏسو ۽ وڌيڪ گنجائش رکندڙ شيءِ کي پينسل سان رنگ ڪريو.
دي گئي تصاویر کو دیکھیں اور ان میں سے زیادہ گنجائش والی چیز میں پینسل سے رنگ کریں۔




Task 32

2 Marks

Shade the circle and the triangle.

گول ۽ ٽڪنڊي کي پينسل سان رنگ ڪريو.
ڊائرے اور ٽڪون میں پینسل سے رنگ بھریں۔



Task 33**3 Marks**

Circle O the correct answers.

صحیح جوابن تي گولڙو O ڀايو.
صحیح جوابات ڀر دائرہ O لڳائين۔

i) In the given set of numbers, circle the greatest number.

هيٺ ڏنل عددن جي سيٽ مان سڀ کان وڏي عدد تي گولڙو ڀايو.
ڏيے گئے اعداد کے سيٽ میں سے سب سے بڑے عدد ڀر دائرہ لڳائين۔

679

981

123

749

286

ii) Identify the ice creams that are of the same size.

هڪ جيتري ماپ واري آئس ڪريم جي نشاندهي ڪريو.
ايڪ جيسے ماپ / سائز کي آئس ڪريم کي نشاندهي ڪريں۔



iii) Write the missing number.

گم ٿيل عدد لکو.
گمشده عدد لکھيں۔

376

377

379

380

Task 34**2 Marks**

Write the correct answers.

صحیح جواب لکو۔
صحیح جوابات لکھیں۔

i) $6 \times \square = 24$

ii) $2 \times 5 = \square$

Task 35**2 Marks**

Complete the given table.

ہینٹ ڈنل جدول کی مکمل کریو۔
دیے گئے جدول کو مکمل کریں۔

	Hundreds سو سیکڑا	Tens ڈھاکا دہائی	Ones ایکا اکائی
678			
842			

Task 36**2 Marks**

Solve the given sums.

ہین ذنل حساب حل کریو۔
دیے گئے حساب کو حل کریں۔

$$\begin{array}{r} 64 \\ + 49 \\ \hline \end{array}$$

$$\begin{array}{r} 47 \\ - 35 \\ \hline \end{array}$$

Rough Work

Science

Instruction: Teacher/Invigilator is requested to readout all questions to the students clearly.

هدايت: استاد / نگراني ڪندڙ کي گذارش ٿي ڪجي ته ڏنل سڀني سوالن کي چڱي طرح پڙهي
ٻڌائي ۽ ٻارن جي رهنمائي ڪري ته جيئن ٻار سوالن کي سمجهي سگهن.
هدايت: استاد / نگران تمام سوالات کي اچي طرح سے پڙھين اور بچوں کي رهنمائي ڪريں۔

Task 37

6 Marks

Circle O the correct answers.

صحيح جوابن تي گولڙو O ڀايو.
صحیح جوابات پر دائرہ O لڳائين۔

i) A raw egg is the liquid form, it can be converted into solid through
ڪچو آڻو/بيدو/بيضو/اندو پاڻيائي شڪل جو هوندو آهي. اهو نهري شڪل ۾ تبديل ڪري سگهجي ٿو
کڇا انڙهه مائع شڪل ۾ هوندو آهي، هي ٿوس شڪل ۾ تبديل ڪيا جاسکتا هے

A	B	C	D
pressing.	heating.	colouring.	filtering.
دٻائڻ سان.	گرم ڪرڻ سان.	رنگڻ سان.	چائڻ سان.
دبانے سے۔	گرم ڪرڻے سے۔	رنگڻے سے۔	چھانڻے سے۔

ii) Because of the less gravitational force, things float on the

ڪشش ثقل جي قوت گهٽ هجڻ جي سبب شيون هوا ۾ ترنديون رهنديون آهن
ڪشش ثقل کي ٿوٽ ڪم هونے کي وجه سے چیزیں هوا میں معلق رہتی ہیں

A	B	C	D
Moon.	Sun.	Star.	Mercury.
چنڊ تي.	سج تي.	تارن تي.	عطارد تي.
چانڊپر۔	سورج پر۔	ستاروں پر۔	عطارد پر۔

iii) The taste of a ripe mango is

پڪل انب جو ذائقو هوندو آهي
پڪے ہوئے آم کا ذائقہ ہوتا ہے

A	B	C	D
sour.	salty.	sweet.	bitter.
کتو.	لوٽيانو.	مینو.	کوڑو/کٽو.
کھٹا۔	نمکین۔	میٹھا۔	کڑوا۔

iv) On the broken/uneven roads, cars move on the slow pace due to the increasing force of

تتل/غير هموار رستن تي گاڏيون آهستي هلنديون آهن ڇو ته اتي وڌي ويندي آهي قوت
ٿوڻ ٿوڻ ٿوڻ / غير هموار راستن پر گاڏياں آهسته چلتی ہیں کیونکہ وہاں بڑھ جاتی ہے قوت

A	B	C	D
gravity.	friction.	light.	wind.
ثقل جي.	گات جي.	روشنی جي.	هوا جي.
ثقل کی۔	رگڑ کی۔	روشنی کی۔	هوا کی۔

v) When we look at the sky, the Sun seems bigger than the stars because it is near to the

جڏهن اسان آسمان ڏانهن ڏسندا آهيون ته سج ستارن کان وڏو نظر ايندو آهي ڇو ته اهو ويجهو آهي
جب ہم آسمان پر دیکھیں تو سورج، ستاروں سے بڑا نظر آتا ہے کیونکہ وہ قریب ہے

A	B	C	D
Moon.	Jupiter.	Earth.	Venus.
چنڊ کي.	مشتري کي.	ڌرتي/زمين کي.	زهري کي.
چاند سے۔	مشتري سے۔	زمین سے۔	زُهره سے۔

vi) Which of the following animals is a mammal?

ھیٹ ڏنل جانورن مان ڪهڙو جانور مئمل آهي؟
دیه گئے جانوروں میں سے کون سا ممالیہ ہے؟

A



B



C



D



Task 38

2 Marks

Write **any two** benefits of the thick fur on the body of polar bear.

برفاني ريج جي جسم تي موجود تلهي / موٽي گل جا ڪي به ٻه فائدا لکو.
برفاني ريجھ ڪے جسم پر موجود موٽي کھال / فر ڪے کوئي دو فائده تحریر کریں۔



Ans. i) _____



ii) _____

Task 39

2 Marks

With the help of a line (—), match the stones with their correct names.

هيٺ ڏنل پٿرن کي انهن جي صحيح نالن سان ليڪ (—) وسيلي ملايو.
 لکير (—) کي مدد سے دئے گئے پٿروں کو ان کے صحیح ناموں سے ملائیں۔

<p>stone</p> <p>پٿر</p> <p>پٿر</p>	<p>name</p> <p>نالو</p> <p>نام</p>
	<p>gravel</p>
	<p>pebble</p>

Task 40**1 Mark**

What will happen if we do not clean our mouth daily?

جيڪڏهن اسان روزانو پنهنجو وات صاف / ڏنڊ نه ڪنداسين ته ڇا ٿيندو؟



اگر ہم روز آنه اپنا منہ صاف نہیں کریں گے تو کیا ہوگا؟

Ans. _____

Task 41**2 Marks**

Look at the given pictures and write **any one** external feature/external body part of each of the given animals.

هيٺ ڏنل تصويرون کي ڏسو ۽ ڏنل جانورن جي ڪنهن به هڪ ٻاهريين عضوي جو نالو لکو.
دی گئی تصاویر کو دیکھیں اور ان جانوروں کی کوئی ایک بیرونی خصوصیت / عضو کا نام لکھیں۔

Animal جانور جانور	External Feature ٻاهريون عضوو بيرونی خصوصیت / عضوو
	
	

Task 42**1 Mark**

According to the given situation, suggest the correct first aid.

هيٺ ڏنل صورتحال جي مطابق صحيح ترٽ طبي امداد لکو.
دی گئی صورتحال کے مطابق صحیح ابتدائی طبی مدد لکھیں۔

A boy has a cut on his hand which is bleeding.

هڪ چوڪري جي هٿ ۾ ڌڪ لڳو آهي ۽ ان جو رت وهي رهيو آهي.
ایک لڑکے کے ہاتھ میں زخم لگ گیا ہے اور اس میں سے خون بہ رہا ہے۔

Ans. _____

Task 43**2 Marks**

Write the correct seasons for the following crops.

هيٺ ڏنل فصلن جي جنسن جو صحيح موسم لکو.
دی گئی اجناس کے درست موسم لکھیں۔

i) Rameez reached his village and saw that farmers were sowing sugar cane in the fields, the season is

رميز پنهنجي ڳوٺ پهتو ته هاري ٻنين ۾ ڪمند جو ٻج پوکي رهيا هئا، اها موسم آهي
رميز اپنے گاؤں پہنچا تو ڪسان ڪھيتون ۾ گنے کي بوائی ڪر رھے تھے، يه موسم ھے



Ans. _____

ii) Farmers in Faizan's village are sowing wheat in the fields, the season is

فيضان جي ڳوٺ ۾ هاري ڪڻڪ جو بچ پوکي رهيا هئا اها موسم آهي
فيضان ڪهه گاؤں ميں ڪسان گندم کي بوائى ڪر رهيا هئا، يه موسم هه



Ans. _____

Task 44

1 Mark

Write **any one** method through which we can minimize the wastage of water.

ڪو به هڪ طريقو لکيو جنهن سان اسان پاڻي ضايع ٿيڻ کان بچائي سگهون ٿا.
ڪوئي ايڪ طريقو لکيو جنهن سان اسان پاڻي کي بچائي سگهون ٿا.

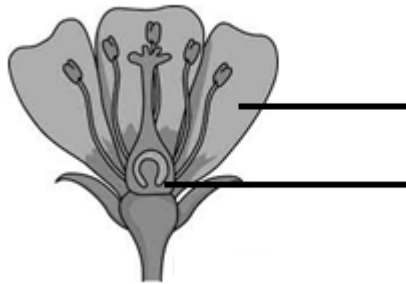
Ans. _____

Task 45

2 Marks

Label the parts of the given flower.

هيٺ ڏنل گل جي حصن نالا لکيو.
ڏنل گل جي حصن نالا لکيو.



Task 46**1 Mark**

Write **any one** natural source through which the given mill works.

هين ڏنل چڪي کي ڪم ڪرڻ / هلائڻ لاءِ گهريل ڪوبه هڪ قدرتي ذريعو لکيو.
دي گئي چڪي، ڪو ڪام ڪرڻ / چلانے کے لئے درڪار ڪوئي ايڪ قدرتي ذريعو لکيں۔



Ans. _____

End of Paper